

MODEL 3 (CATALÀ)

CAS PRÀCTIC

El conseller d'Agricultura, Pesca i Medi Natural té sessió en el Parlament de les Illes Balears, per la qual cosa el senyor X, xofer personal del conseller, l'ha d'acompanyar juntament amb uns quants membres del seu gabinet.

El senyor X recull el cap de gabinet a la seu de la Conselleria d'Agricultura, Pesca i Medi Natural i es dirigeixen cap al Fons de Garantia Agrària i Pesquera de les Illes Balears (FOGAIBA), ubicat a Palma, a recollir el secretari general de la Conselleria, que es troba allà perquè havia de despatxar uns assumptes amb el director gerent.

Una vegada recollit el secretari general, es dirigeixen fins a l'aeroport de Son Sant Joan per a cercar el conseller d'Agricultura, Pesca i Medi Natural, que torna d'un acte a Menorca. Recollit el conseller, es dirigeixen fins a la seu del Parlament.

Finalitzada la sessió en el Parlament, tornen a la seu de la Conselleria d'Agricultura, Pesca i Medi Natural, i el senyor X deixa aquí estacionat el vehicle. D'aquesta manera, finalitza la seva jornada laboral.

Contestau les preguntes que hi ha a continuació.

PREGUNTA 1 (1 PUNT)

- a) Quina és la ubicació de la seu de la Conselleria d'Agricultura, Pesca i Medi Natural?
- b) Quina és la ubicació del FOGAIBA?

PREGUNTA 2 (1 PUNT)

On ha d'estacionar el vehicle el senyor X a l'aeroport de Son Sant Joan?

PREGUNTA 3 (1 PUNT)

Una vegada recollit el conseller a l'aeroport, on han d'asseure's cadascun dels ocupants del vehicle seguint estrictament l'ordre protocol·lari?

PREGUNTA 4 (1 PUNT)

Quina és la ruta més ràpida que pot fer el senyor X des de la seu de la Conselleria d'Agricultura, Pesca i Medi Natural (punt d'origen) fins al Parlament (punt de destinació), passant pel FOGAIBA i per l'aeroport de Son Sant Joan, tenint en compte un dia de trànsit fluid? Indicau fites quilomètriques i velocitats màximes.

EXAMEN 2 CAUXF MECÀNICA I CONDUCCIÓ

PREGUNTA 5 (1 PUNT)

Una vegada estacionat el vehicle a la seu de la Conselleria d'Agricultura, Pesca i Medi Natural, què ha de tenir en compte el senyor X perquè el vehicle estigui en perfectes condicions d'ús per a la jornada següent?



PREGUNTA 6 (1 PUNT)




a) Quina documentació ha de dur sempre damunt, així com dins el vehicle, un mecànic conductor al servei de la Comunitat Autònoma de les Illes Balears?

b) Davant un accident de circulació, quines responsabilitats civils i penals tindrà el conductor del vehicle públic?

PREGUNTA 7 (1 PUNT)

Observau les imatges que hi ha a continuació i indica al requadre buit el significat dels senyals i les ordres dels agents de l'autoritat encarregats de la vigilància del trànsit segons el Reial decret 1428/2003, de 21 de novembre, pel qual s'aprova el Reglament general de circulació per a l'aplicació i el desplegament del text articulat de la Llei sobre trànsit, circulació de vehicles de motor i seguretat viària, aprovat pel Reial decret legislatiu 339/1990, de 2 de març.

 <p>Braç aixecat verticalment</p>	
 <p>Braç o braços estesos horitzontalment</p>	

 <p><i>Balanceig d'una llum vermella o groga</i></p>	
 <p><i>Braç estès movent-ho alternativament de dalt a baix</i></p>	
 <p><i>Senyals fets amb xiulet</i></p>	

PREGUNTA 8 (1 PUNT)

- a) Quins factors poden influir en les aptituds d'un conductor?
- b) Quins efectes poden generar en la conducció aquests factors?
- c) Què és la fatiga crònica?

PREGUNTA 9 (1 PUNT)

Amb referència a l'actitud d'un mecànic conductor al servei de la Comunitat Autònoma de les Illes Balears, quines mesures ha d'adoptar per a garantir la seguretat durant la conducció?

EXAMEN 2 CAUXF MECÀNICA I CONDUCCIÓ

PREGUNTA 10 (1 PUNT)

Especifiqueu què signifiquen cadascun dels números i les lletres que apareixen en la imatge següent d'un pneumàtic:



185:

70:

R:

13:

86:

H:
